



Orientações

1. Este caderno de questões deve ser impresso e entregue, respondido, no Colégio Múltiplo Ensino (a coordenação) no dia **03 de agosto de 2022**. **Não serão aceitos fora do prazo.**
2. As questões de matemática deverão conter os cálculos escritos para serem corrigidas. Questões que tenham apenas as marcações das alternativas serão desconsideradas e não contabilizarão pontos.
3. A resolução da atividade de férias **não é obrigatória**, porém, os estudantes que realizarem a atividade serão pontuados com nota no boletim.

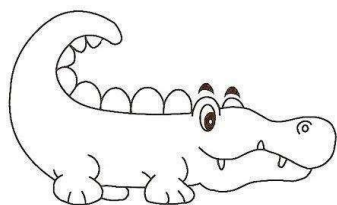
Nome do estudante: _____

Série: _____ Turma: _____ Turno: _____


Professora: _____

LÍNGUA PORTUGUESA

QUESTÃO 1. Leia o texto e responda a questão.




A tartaruga e o jacaré
A tartaruga e o jacaré
Enjoados da floresta
Decidiram ir para cidade.
-A vida lá é uma festa
Lá tem muita diversão,
Tem cinema, discoteca,
Tem passeio de montão!




Quando a tartaruga e o jacaré falam: -"A vida lá é uma festa." Eles querem dizer:

- () Que viver na floresta é muito ruim.
() Que é melhor viver em casa.
() Que viver na floresta é uma festa.
() Que viver na cidade é uma festa.



QUESTÃO 2. Observe a imagem, leia a palavra abaixo e marque seu número de sílabas:



BORBOLETA

- () 3 sílabas
() 4 sílabas
() 2 sílabas
() 1 sílaba

QUESTÃO 3. Na frase "A onda do mar está fraca." O sinônimo da palavra destaca é:

() forte () leve () grande () pequena

QUESTÃO 4. Assinale o item em que todas as palavras possuem encontro vocálico:

() geladeira, coruja e ouvido.

() caixa, mamãe e telefone.

() leite, azeite e peixe.

() olho, vassoura e casa.

QUESTÃO 5 Leia:



O que Marina quer de aniversário?

_ Um buque de flores e um colar de pérolas de todas as cores.

_ O lado oculto da Lua e um gato milionário que mia na rua.

No texto, quantas palavras são acentuadas com o acento agudo?

() 4 palavras () 2 palavras () 1 palavra () 3 palavras

MATEMÁTICA

QUESTÃO 6.

Ajude João a descer a escada usando os números em ordem decrescente. Marque a alternativa correta.

- a) 1,2,3,4,5,6,7,8,9.
- b) 7,4,9,2,8,6,1,0,2.
- c) 9,8,7,6,5,4,3,2,1,0.
- d) nenhuma das alternativas estão corretas

QUESTÃO 7.

Observe a imagem abaixo, os números que aparecem estão representando a ordem:

- decrescente
- embaralhados
- crescente
- todas as alternativas estão corretas.



QUESTÃO 8.

Marina tem 10 reais e João 2 reais. Então quem tem maior quantidade. Ajude-o que sinal usar.

a) 5 menor 2.

b) 10 é maior 2.

c) 10 é menor 2.

d) todas alternativas corretas.



QUESTÃO 9.

Marque a alternativa correta. No parque temos 10 crianças brincando e na fila para o escorrego, a ordem de João é o número 9. Como escrevemos o número 9 em ordem ordinal:

A () 10º

b) () 11º

c) () 20º

d) () 9º

QUESTÃO 10.

Qual o resultado da continha abaixo. Pense e responda.

$$\begin{array}{r} 372 \\ +210 \\ \hline \end{array}$$

a) () 481

b) () 582

c) () 572

d) () 612